

ఫార్మేటివ్ టెస్ట్ - II

తరగతి: VI

విషయం: సాంఘికశాస్త్రం

మార్కులు: 20

I. విషయావగాహన

(ఎ) బహుళైచ్ఛిక ప్రశ్నలు

4 X ½ = 2 మా

- 1) ఎరుపు రంగు చిత్రాలలో ఉన్న మూపురం ఎద్దు చిత్రం ఉన్న గుహ ()
 ఎ) బెలుం బి) ఎద్దుల ఆవుల గుండు సి) చింతమాను డి) బొర్రా
- 2) పెనమకూరు రైతులు వారి పంటకు బదులు దీనిని పండిస్తున్నారు ()
 ఎ) చెరకు బి) మొక్కజొన్న సి) గోధుమ డి) జొన్న
- 3) కృష్ణా, గోదావరి నదులు ఈ సముద్రంలో కలుస్తాయి ()
 ఎ) అరేబియా బి) హిందూ సి) బంగాళాఖాతం డి) ఇవేవి కావు
- 4) గణ సమావేశంలో ఈ క్రింది వారికి పాల్గొనే అవకాశం ఉండేది కాదు ()
 ఎ) మహిళలు బి) బానిసలు సి) సేవకులు డి) వీరందరూ

(బి) క్రింది ప్రశ్నలకు సమాధానాలు వ్రాయుము

3 x 2 = 6 మా

- 5) ఆదిమానవులు వాడిన రాతి పనిముట్లకు, నవీన పనిముట్లకు గల తేడాలను తెలపండి.
- 6) ప్రధాన భూస్వరూపాలు ఎన్ని అవి ఏవి ?
- 7) జనపదం అంటే అర్థం ఏమిటి ? మహాజనపదాలకు వీటికీ తేడా ఏమిటి ?

II. సమకాలీన / సాంఘిక అంశాలపై ప్రతిస్పందన మరియు ప్రశ్నించడం

1 x 4 = 4 మా

8) గ్రామంలోని రైతులందరూ చెరకు లేదా పసుపు పంటలు మాత్రమే పండించటం ఒక మంచి ఆలోచనగా మీరు భావిస్తున్నారా?.

(లేదా)

ప్రస్తుతం ప్రభుత్వం వృత్తి పనుల వారి మీద ఏ విధంగా పన్నులు వేస్తోంది? మహాజనపదాలలోని పన్నుల విధానం ఇదీ ఒకటినా?

III. ప్రశంస మరియు సున్నితత్వము

1 x 4 = 4 మా

వేటాడిన జంతువులకు ఆదిమానవులు, పండిన పంటకు నేటి మానవులు కృతజ్ఞతలు తెలపడంలో ఏవైనా పోలికలు ఉన్నాయా ?

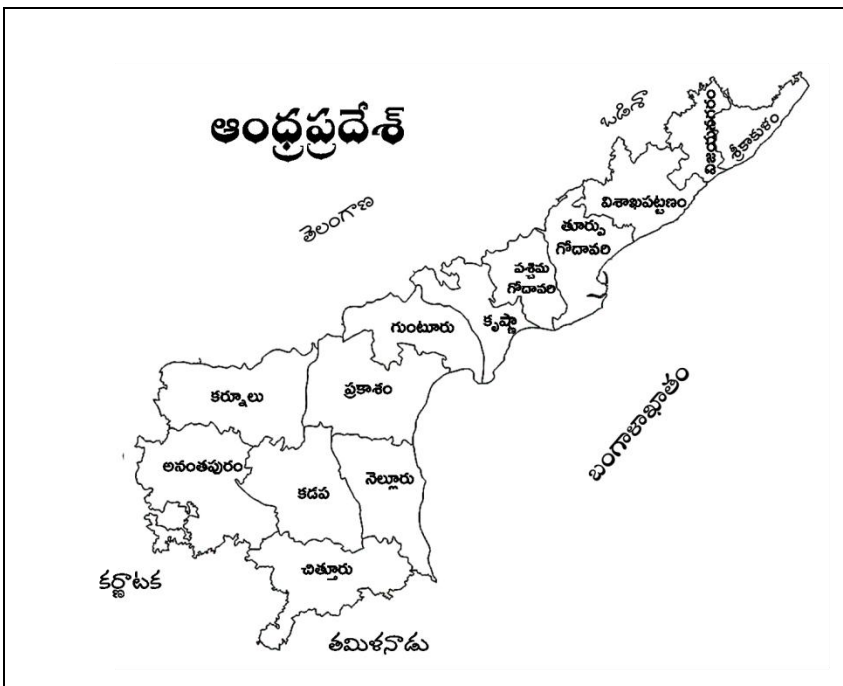
(లేదా)

సహజ సంపదను ఉపయోగించి మగధ రాజులు బలమైన మగధ రాజ్యాన్ని ఎలా నిర్మించారు ?

IV. పట నైపుణ్యాలు

4 x 1 = 4 మా

10) ఆంధ్రప్రదేశ్ పటం చూసి సముద్రతీరం లేని 4 జిల్లాలను గుర్తించి వాటి పేర్లను వ్రాయండి.



- i) _____ జిల్లా
- ii) _____ జిల్లా
- iii) _____ జిల్లా
- iv) _____ జిల్లా

ఫార్మేటివ్ టెస్ట్ - II

తరగతి: VII

విషయం: సాంఘికశాస్త్రం

మార్కులు: 20

I. విషయావగాహన

(ఎ) బహుళైచ్ఛిక ప్రశ్నలు

4 X ½ = 2 మా

- 1) ఈ నీరు త్రాగడం పంటికి , ఎముకలకు మంచిది కాదు ()
 ఎ) భూగర్భ జలం బి) ప్లోరైడ్ నీరు సి) కొళాయి నీరు డి) మినరల్ వాటర్
- 2) భావనపడులో ముఖ్యమైన పంట ()
 ఎ) గోధుమ బి) జొన్న సి) వరి డి) చెరుకు
- 3) పల్నాటి వీరుల చరిత్రను రచించిన వారు ()
 ఎ) శ్రీనాధుడు బి) జాయప సేనాని సి) కాళిదాసు డి) పాల్కురికి సోమనాధుడు
- 4) కవిత్రయమనగా ()
 ఎ) నన్నయ్య బి) తిక్కన సి) ఎర్రాప్రగడ డి) వీరందరూ

(బి) క్రింది ప్రశ్నలకు సమాధానాలు వ్రాయుము

3 x 2 = 6 మా

- 5) నీరు ఇంకి పోవడానికి వీలులేని శిలలు లేకపోతే భూగర్భ జలాలు ఉంటాయని భావిస్తున్నారా ?
- 6) భూమి ఉపరితలానికి, సముద్రపు అడుగు భాగానికి మధ్యగల పోలికలేమిటి ?
- 7) రుద్రమదేవి గురించి వ్రాయండి.

II. సమాచార నైపుణ్యాలు

4 x 1 = 4 మా

8) ఈ పట్టిక ఆధారంగా క్రింది ప్రశ్నలకు సమాధానములు వ్రాయుము
 కాకతీయ రాజులలో ముఖ్యులు:

| | |
|-----------------|------------------|
| రెండో ప్రోలరాజు | క్రీ.శ.1116-1157 |
| రుద్రదేవుడు | క్రీ.శ.1158-1195 |
| గణపతిదేవుడు | క్రీ.శ.1199-1262 |
| రుద్రమదేవి | క్రీ.శ.1262-1289 |
| ప్రతాపరుద్రుడు | క్రీ.శ.1289-1323 |

- (i) ఎవరు ఎక్కువ కాలం పరిపాలించారు ?
- (ii) ఏ కాకతీయరాజు చివరన పాలించారు ?
- (iii) మొదటి కాకతీయరాజు ఎవరు ?
- (iv) కాకతీయరాజులు ఎప్పటి నుంచీ ఎప్పటి వరకూ పాలించారు ?

III. సమకాలీన / సాంఘిక అంశాలపై ప్రతిస్పందన మరియు ప్రశ్నించడం

1 x 4 = 4 మా

9) భూగర్భ జలాలు వృధా కాకుండా తక్కువ వాడటానికి గల మార్గాలను తెలపండి.

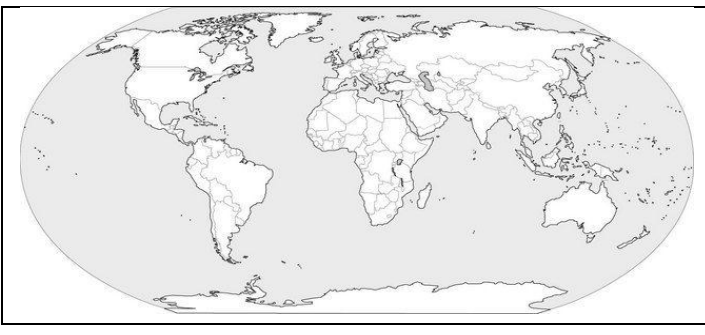
(లేదా)

మత్స్యకారులు డబ్బుకోసం మధ్యవర్తులపై ఆధారపడకుండా ఉండాలంటే మీరే పరిష్కార మార్గాలు సూచిస్తారు ?

IV. పట నైపుణ్యాలు

4 x 1 = 4 మా

10) ప్రపంచపటం లో క్రింది మహాసముద్రాలను గుర్తించండి.



- i) పసిఫిక్ మహాసముద్రం
- ii) హిందూ మహాసముద్రం
- iii) అట్లాంటిక్ మహాసముద్రం
- iv) ఆర్కిటిక్ మహాసముద్రం

పాఠాలు :3,4&14

ఫార్మేటివ్ టెస్ట్ - II

తరగతి: VIII

విషయం: సాంఘికశాస్త్రం

మార్కులు: 20

I. విషయావగాహన

(ఎ) బహుళవిక ప్రశ్నలు

4 X ½ = 2 మా

- 1) 'అర్ధరాత్రి సూర్యుడి దేశం' అని ఈ దేశాన్ని అంటారు ()
 ఎ) స్వీడన్ బి) ఫిన్ లాండ్ సి) నార్వే డి) రష్యా
- 2) చెక్క చట్టం మీద జంతువుల చర్యతో చేసిన ఒక రకమైన పడవ ()
 ఎ) కయాక్ బి) హార్పూన్ సి) స్లెడ్జ్ డి) ముక్ లుక్
- 3) ముట్నూరి కృష్ణారావు సంపాదకత్వం వహించిన పత్రిక ()
 ఎ) గోల్కొండ పత్రిక బి) కృష్ణా పత్రిక సి) ఆంధ్ర పత్రిక డి) హిందూ పత్రిక
- 4) మొదటి ప్రపంచ పత్రిక ప్రారంభమైన సంవత్సరం ()
 ఎ) 1945 బి) 1935 సి) 1919 డి) 1914

(బి) క్రింది ప్రశ్నలకు సమాధానాలు వ్రాయుము

3 x 2 = 6 మా

- 5) మీరు గమనించిన ముఖ్యమైన కాలాలను వ్రాయండి.
- 6) టండ్రా ప్రాంతంలోని ప్రజలకు చలి కాలంలో కాంతి ఎలా లభిస్తుంది ?
- 7) భారతదేశపు పురాతన రాజుల పాలనను తిరిగి స్థాపించాలని తొలి జాతీయ వాదులు ఎందుకు అనుకోలేదు?

II. సమాచార నైపుణ్యాలు

4 x 1 = 4 మా

8) టండ్రా ప్రాంత ప్రజల జీవితం అక్కడి వాతావరణం మీద ఎలా ఆధారపడి ఉంది ? దిగువ అంశాలలో దీనిని వివరించండి.

| ఆహారం | బట్టలు | ప్రయాణాలు | ఆవాసం |
|-------|--------|-----------|-------|
| | | | |

III. సమకాలీన / సాంఘిక అంశాలపై ప్రతిస్పందన మరియు ప్రశ్నించడం

1 x 4 = 4 మా

9) బయటి వాళ్ళతో ఏర్పడిన సంబంధాల కారణంగా టండ్రా ప్రాంతవాసుల జీవితాలు మెరుగయ్యాయా, పాడయ్యాయా? కారణాలేవి ?

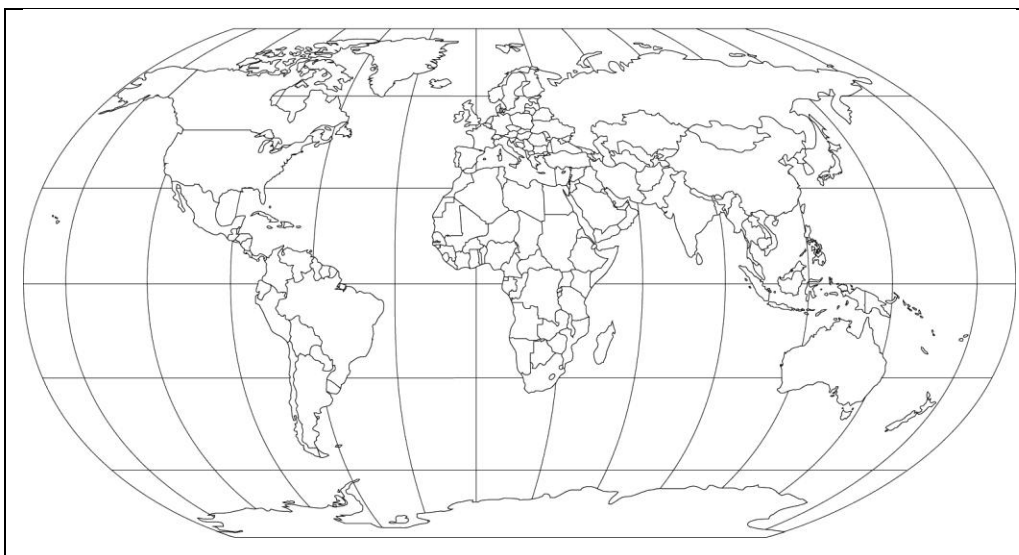
(లేదా)

భారతదేశంపై బ్రిటీషు పాలన ఆర్థిక ప్రభావాన్ని ఎందుకు అర్థం చేసుకోవాలి ?

IV. పట నైపుణ్యాలు

1 x 4 = 4 మా

10) గ్లోబు లో క్రింది వానిని గుర్తించండి.



- i) ఆస్ట్రేలియా
- ii) దక్షిణాఫ్రికా
- iii) చిలీ
- iv) నార్వే

యూనిట్ టెస్ట్ - II

తరగతి :IX

మార్కులు :25

సబ్జెక్ట్:సాంఘికశాస్త్రం

సమయము :45నిమి.

I. ఈ క్రింది ప్రశ్నలకు సమాధానములు వ్రాయుము

3 X 2 = 6 మా

1. బాల్టిక్ సముద్రంలో లవణీయత తక్కువగా ఉండటానికి కారణాలేవి?
2. మానవతావాద భావనలు ఇటలీలో పట్టణాలను ముందుగా ఎందుకు ప్రభావితం చేసాయి?
3. క్రింది పట్టికను పరిశీలించి ప్రశ్నలకు సమాధానాలిమ్ము.

| | |
|----------------------------------|---|
| మహోన్నత లేక రక్షపాత రహిత విప్లవం | ఇంగ్లాండ్ లో రాజు నుండి అత్యున్నత అధికారం పార్లమెంట్ కు బదిలీ చేయబడింది |
| బాస్టిల్ కోట పతనం | మూడవ ఎస్టేట్ నాయకులను అరెస్ట్ చేస్తారనే వదంతులు వ్యాపించాయి. రెచ్చిపోయిన ప్రజలు 1789 జూలై 14న బాస్టిల్ కోటను ముట్టడించి ఖైదీలను విడుదల చేశారు |
| జాకోబిన్ క్లబ్బులు | 1791 రాజ్యాంగం ధనికులకు మాత్రమే రాజకీయ హక్కులు ఇచ్చింది. దీనిపై చర్చించటానికి రాజకీయ క్లబ్బులు ఏర్పడ్డాయి. వీటినే జాకోబియన్ క్లబ్బులు అంటారు |

- i) బాస్టిల్ కోట పతనం ఎప్పుడు జరిగింది ?
- ii) రక్షరహిత విప్లవానికి మరోపేరేమి ?
- iii) జాకోబియన్ క్లబ్బులు ఎందుకు ఏర్పడ్డాయి ?
- iv) రక్షపాత రహిత విప్లవం ఎక్కడ జరిగింది ?

II. రెండు ప్రశ్నలకు సమాధానం వ్రాయుము

2 X 4 = 8 మా

4. మహాసముద్రాలు మానవులకు ఏ విధంగా ఉపయోగపడుతున్నాయి ?
5. ఫ్రాన్స్ లో విప్లవ తిరుగుబాటుకు దారి తీసిన పరిస్థితులేవి ?
6. బైబిల్ ను ముద్రించటం ద్వారా దేవుడు, చర్చి భావనలు ఎలా ప్రభావితం అయ్యాయి ?

III. క్రింది ప్రశ్నలకు సమాధానాలిమ్ము

3 x 1 = 3 మా

7. మోనాలిసా, లాస్ట్ సప్పర్ చిత్రాలను గీసినవారు ?
8. సోషియల్ కాంట్రాక్ట్ గ్రంథ రచయిత ఎవరు ?
9. లావణీయత అనగానేమి ?

IV. క్రింది దేశాలను ప్రపంచ పటంలో గుర్తించండి

6 X ½ = 3 మా

- i) ఇంగ్లాండ్ ii) పోర్చుగల్ iii) ఫిలిప్పీన్స్ iv) వెస్టిండీస్ v) ఫ్రాన్స్ vi) ఇండియా



V. సరైన సమాధానాన్ని గుర్తించండి

5 X ½ = 2 ½ మా

- i) లాంగ్ పార్లమెంట్ కాలం ()
 ఎ) 1640-1660 బి) 1620-1640 సి) 1600-1620 డి) 1610-1620
- ii) టిడే అనే పన్ను వసూలు చేసింది ()
 ఎ) రాజులు బి) చర్చి సి) సైన్యం డి) భూస్వాములు
- iii) ప్రెయిస్ ఆఫ్ ఫాలీ అనే పుస్తకాన్ని రాసింది ()
 ఎ) బాక్ హార్ట్ బి) మార్టిన్ లూథర్ సి) డావిన్స్ డి) ఎరాస్మస్
- iv) సూక్ష్మదర్శిని ని కనుగొన్నది ()
 ఎ) గెలీలియో బి) గుటేన్ బర్గ్ సి) డావిన్స్ డి) అమెరిగో వెస్పూచి
- v) అమెరికా నుండి యూరప్ ఆఫ్రికాలను వేరు చేసే సముద్రం ()
 ఎ) పసిఫిక్ బి) ఆర్కిటిక్ సి) అట్లాంటిక్ డి) హిందూమహాసముద్రం

VI. జతపరుచుము

5 X ½ = 2 ½ మా

గ్రూప్ - ఎ

గ్రూప్ - బి

- | | | |
|-------------------------|-----|-------------------------------|
| i) ఛాలెంజర్ | () | ఎ) సెయింట్ పీటర్స్ చర్చ్ డోమ్ |
| ii) మైఖెలాంజిలో | () | బి) మొదటి ఎస్టేట్ |
| iii) మాంచెసా ఆఫ్ మంటువా | () | సి) పసిఫిక్ మహాసముద్రం |
| iv) మతాధిపతులు | () | డి) బ్రిటీష్ ఓడ |
| v) మెరియానా అగాధం | () | ఇ) ఇసాబెల్లా డి ఎస్ట్రే |
| | | ఎఫ్) భూగర్భజలం |

యూనిట్ టెస్ట్ - II

తరగతి :X

మార్కులు :25

సబ్జెక్ట్:సాంఘికశాస్త్రం

సమయము :45నిమి.

I. ఈ క్రింది ప్రశ్నలకు సమాధానములు వ్రాయుము

3 X 2 = 6 మా

1. ఆర్థిక కార్య కలాపాలను ప్రాథమిక, ద్వితీయ, తృతీయ రంగాలుగా విభజించటం ఉపయోగామేనా? ఎందుకు ?
2. భూగోళం వేడెక్కడాన్ని అడవులు అంతరించి పోవటం ఎలా ప్రభావితం చేస్తుంది?
3. క్రింది పట్టికను పరిశీలించి ప్రశ్నలకు సమాధానాలిమ్ము.

| | |
|---|---------------------|
| వైమర్ గణతంత్ర రాజ్యంగా ప్రకటన | నవంబర్, 9, 1918 |
| హిట్లర్ జర్మనీకి ఛాన్సలర్ కావటం | జనవరి, 30, 1933 |
| జర్మనీ పోలండ్ పై దండెత్తటం, రెండవ ప్రపంచ యుద్ధ ప్రారంభం | సెప్టెంబర్, 1, 1939 |
| యురూప్ లో మిత్ర రాజ్యాల కూటమి విజయం | మే, 8, 1945 |

- i) జర్మనీ వైమర్ గణతంత్ర రాజ్యంగా ఎప్పుడు ప్రకటించ బడింది ?
- ii) రెండవ ప్రపంచ యుద్ధం ఎప్పుడు ప్రారంభమైనది ?
- iii) రెండవ ప్రపంచ యుద్ధానికి తక్షణ కారణం ఏది ?
- iv) యూరూప్ లో విజయం సాధించిన కూటమి పేరేమి ?

II. రెండు ప్రశ్నలకు సమాధానం వ్రాయుము

2 X 4 = 8 మా

4. భారతదేశంలో ఈనాడు సంక్షేమ రాజ్యంలో ఏ ఏ అంశాలు అమలులో ఉన్నాయి?
5. భూగోళం వేడెక్కటంలో మానవుని పాత్ర తెల్పండి?
6. సేవారంగం ఇతర రంగాల కన్నా భిన్నమైనది. ఎట్లు ?

III. క్రింది ప్రశ్నలకు సమాధానాలిమ్ము

3 x 1 = 3 మా

7. IPCC ని విస్తరించుము.
8. వ్యవస్థీకృత రంగం అనగానేమి ?
9. లెనిన్ పూర్తి పేరేమి ?

IV. క్రింది దేశాలను ప్రపంచ పటంలో గుర్తించండి

6 X ½ = 3 మా

- i) రష్యా ii) గ్రేట్ బ్రిటన్ iii) జపాన్ iv) జర్మనీ v) ఇటలీ vi) యు.ఎస్.ఎ.



V. సరైన సమాధానాన్ని గుర్తించండి

5 X ½ = 2 ½ మా

- i) ఆర్థిక మాంద్యం కాలం ()
 ఎ) 1929-35 బి) 1929-39 సి) 1929-45 డి) 1929-33
- ii) ఇడ్లీ దీనికి ఉదాహరణ ()
 ఎ) అంత్య వస్తువు బి) పూర్తికాని వస్తువు సి) మాధ్యమిక వస్తువు డి) ప్రాథమిక వస్తువు
- iii) భారతదేశంలో అవ్వవస్తీకృత రంగంలో పనిచేసే వారి శాతం ()
 ఎ) 94% బి) 98% సి) 92% డి) 96%
- iv) USSR ఏర్పడిన సంవత్సరం ()
 ఎ) 1919 బి) 1922 సి) 1921 డి) 1924
- v) రబీలో పండించే పంట ()
 ఎ) వరి బి) జొన్న సి) గోధుమ డి) పప్పుధాన్యాలు

VI. జతపరుచుము

5 X ½ = 2 ½ మా

- | గ్రూప్ - ఎ | | గ్రూప్ - బి |
|-------------------------|-----|----------------------------|
| i) రైతు | () | ఎ) పశ్చిమ విక్షోభాలు |
| ii) లూ | () | బి) అవ్వవస్తీకృత రంగం |
| iii) మధ్యధరా సముద్రం | () | సి) యూదులు |
| iv) పంచ వర్ష ప్రణాళికలు | () | డి) వేడి మరియు పొడి గాలులు |
| v) హోలోకాస్ట్ | () | ఇ) రూజ్ వెల్ట్ |
| | | ఎఫ్) జోసెఫ్ స్టాలిన్ |