

# **SUMMATIVE ASSESSMENT - 1**

**VIII & IX CLASSES**

**Social Studies**

# SUMMATIVE ASSESSMENT - 1

## SYLLABUS

VIII CLASS

EM/TM

**UNIT NO :**                      **NAME OF THE UNIT**

1.                      **READING AND ANALYSIS OF MAPS**
2.                      **ENERGY FROM THE SUN**
3.                      **EARTH MOVEMENTS AND SEASONS**
4.                      **THE POLAR REGIONS**
5.                      **FORESTS: USING AND PROTECTING THEM**
6.                      **MINERALS AND MINING**
7.                      **MONEY AND BANKING**
8.                      **IMPACT OF TECHNOLOGY ON LIVELIHOODS**
9.                      **PUBLIC HEALTH AND THE GOVERNMENT**
10.                     **LANDLORDS AND TENANTS UNDER THE BRITISH AND THE NIZAM**
11.                     **A. NATIONAL MOVEMENT- THE EARLY PHASE 1885-1919**
11. B.                   **NATIONAL MOVEMENT – THE LAST PHASE 1919-1947**
12.                     **FREEDOM MOVEMENT IN HYDERABAD STATE**
13.                     **THE INDIAN CONSTITUTION**
14.                     **PARLIAMENT AND CENTRAL GOVERNMENT**
15.                     **LAW AND JUSTICE – A CASE STUDY**
16.                     **ABOLITION OF ZAMINDARI SYSTEM**

# ACADEMIC STANDARD WISE BLUE PRINT

## VIII CLASS EM/TM

<b>Academic Standard</b>	<b>AS 1</b>	<b>AS 2</b>	<b>AS 3</b>	<b>AS 4</b>	<b>AS 5</b>	<b>AS 6</b>	<b>TOTAL</b>
<b>Marks</b>	<b>32</b>	<b>8</b>	<b>12</b>	<b>8</b>	<b>12</b>	<b>8</b>	<b>80</b>

# **SYLLABUS**

**IX CLASS**

**PAPER - I**

- 1. OUR EARTH**
- 2. NATURAL REALMS OF THE EARTH**
- 3. HYDROSPHERE**
- 4. ATMOSPHERE**
- 5. BIOSPHERE**
- 6. AGRICULTURE IN INDIA**
- 7. INDUSTRIES IN INDIA**

# **SYLLABUS**

**IX CLASS**

**PAPER - II**

- 12. CHANGING CULTURAL TRADITIONS IN EUROPE 1300-1800**
- 13. DEMOCRATIC AND NATIONALIST REVOLUTIONS-17<sup>TH</sup> & 18<sup>TH</sup> CENTURIES**
- 14. DEMOCRATIC AND NATIONALIST REVOLUTIONS-19<sup>th</sup> CENTURY**
- 15. INDUSTRIALISATION AND SOCIAL CHANGE**
- 16. SOCIAL PROTEST MOVEMENTS**

# ACADEMIC STANDARD WISE BLUE PRINT

**IX CLASS**

**PAPER I & II**

**EM/TM**

<b>A.S.</b>	<b>I</b>	<b>II</b>	<b>III</b>	<b>IV</b>	<b>V</b>	<b>VI</b>	<b>TOTAL</b>
<b>Marks</b>	<b>16</b>	<b>4</b>	<b>6</b>	<b>4</b>	<b>6</b>	<b>4</b>	<b>40</b>

# POSSIBLE TYPES QUESTIONS

1. జతపరచండి
2. సరైన / సరికాని వాక్యాన్ని గుర్తించండి
3. సరైన / సరికాని జతను గుర్తించండి.
4. వాక్యాన్ని సరి చేయండి.
5. సరైన వాక్యాన్ని గుర్తించండి.
6. చిత్రాన్ని ఇచ్చి ప్రశ్నించడం.
7. కాలక్రమ వరుసలో అమర్చండి.
8. దిక్కులను అనుసరించి అమర్చడం
9. విభిన్నంగా ఉన్నదానిని గుర్తించండి
10. ప్లాట్ చార్టు ఇచ్చి ఖాళీ డబ్బాను పూరించేలా చూడడం.
11. వర్గీకరించడం
12. ఇవ్వబడిన వాక్యాలు ఏ అంశానికి సంబంధించినవి
13. కార్యకారణ సంబంధాలు
14. కారణాలు, ఫలితాలు, ఉదాహరణలు
15. సంబంధాన్ని గుర్తించడం / స్థాపించడం

AS I

విషయావగాహన



ఈ చిత్రాన్ని పరిశీలించడం

ద్వారా ఈ విషయాలను

తెలుసుకోవచ్చు :

A. భూభ్రమణం, భూ పరిభ్రమణం

B. ఋతువులు

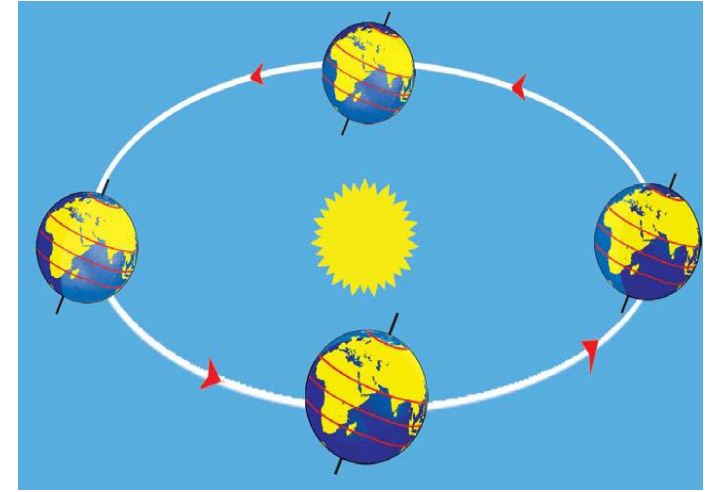
C. రాత్రి, పగలు కాలంలో తేడాలు

1. A మాత్రమే

2. A మరియు B మాత్రమే

3. A, మరియు C మాత్రమే

4. A, B మరియు C



# సరికాని జతను గుర్తించండి

1. కడప – బెర్రెటీస్
2. ఖమ్మం – బొగ్గు
3. వరంగల్ – వజ్రాలు
4. కోలార్ – బంగారం

ఇవ్వబడిన ప్రాంతాలను అవి ఉన్న స్థానాన్ని  
అనుసరించి దక్షిణం నుండి ఉత్తరానికి

సరైన వరుస :

1. త్రీనగర్ – చెన్నై – ఢిల్లీ
2. చెన్నై – త్రీనగర్ – ఢిల్లీ
3. చెన్నై – ఢిల్లీ – త్రీనగర్
4. ఢిల్లీ – త్రీనగర్ – చెన్నై

## జతపరచండి

1. సతత హరిత అడవులు a. కొన్ని నెలలపాటే వర్షాలు పడి, సంవత్సరంలో అధిక భాగం పొడిగా, వెచ్చగా ఉండే ప్రాంతాలు
2. ఆకురాల్చే అడవులు b. అధిక వర్షపాతం, అధిక ఉష్ణోగ్రత ఉండే ప్రాంతాలు
3. ముళ్ల అడవులు c. చాలా తక్కువ వర్షపాతం, అధిక ఉష్ణోగ్రతలు ఉండే ప్రాంతాలు

1. 1-a, 2-b, 3-c

2. 1-b, 2-a, 3-c

3. 1-a, 2-c, 3-b

4. 1-c, 2-b, 3-a

# భారత స్వాతంత్ర్యోద్యమ కాలంలో జరిగిన సంఘటనల వరుస క్రమాన్ని గుర్తించండి

1. శాసనోల్లంఘన ఉద్యమం → సహాయ నిరాకరణ ఉద్యమం → వందేమాతరం ఉద్యమం
2. వందేమాతరం ఉద్యమం → శాసనోల్లంఘన ఉద్యమం → సహాయ నిరాకరణ ఉద్యమం
3. వందేమాతరం ఉద్యమం → సహాయ నిరాకరణ ఉద్యమం → శాసనోల్లంఘన ఉద్యమం
4. శాసనోల్లంఘన ఉద్యమం → వందేమాతరం ఉద్యమం → సహాయ నిరాకరణ ఉద్యమం

## క్రింది వానిలో అసత్యంగా ఉన్న వాక్యము:

1. ధరలు పెరిగినప్పుడు రిజర్వ్ బ్యాంకు ధనప్రవాహాన్ని తగ్గిస్తుంది.
2. పెరుగుతున్న ధరలు ప్రతిఒక్కరిపై ఒకే విధమైన ప్రభావాన్ని చూపుతాయి
3. ప్రభుత్వం ఎగుమతి దిగుమతుల విధానం ద్వారా నిత్యావసర వస్తువుల ధరలను నియంత్రిస్తుంది.
4. సాధారణ ద్రవ్యోల్బణం ఉన్నప్పుడు టోకు ధరల సూచిక వేగంగా పెరుగుతుంది.

## Which among the following is *not* a true statement?

- 1. When there is price rise, the Reserve bank reduces the money circulation**
- 2. Rising prices affect everyone in the same way**
- 3. Government uses import-export policy to regulate the prices of essential goods.**
- 4. When there is general inflation, wholesale price index rises rapidly.**

**M:** “ఈ ప్రపంచమూ, భౌతిక సుఖాలూ ముఖ్యమైనవి కావు. మనం ఆలోచించాల్సింది మరణానంతర జీవితం గురించి మాత్రమే”

**N:** “ఈ ప్రపంచంలో ఇప్పుడు మనల్ని ప్రభావితం చేసే ప్రతి విషయమూ ముఖ్యమైనదే. భౌతిక సుఖాలు వదిలివేయాల్సినవేమీ కాదు”

వారి స్టేట్ మెంట్ లను బట్టి M, N లను గురించి మనం ఇలా ఊహించవచ్చు.

1. M మధ్యయుగాలకు చెందిన పండితుడు, N మానవతావాది
2. M మానవతావాది, N మధ్యయుగాలకు చెందిన పండితుడు
3. M, N లు ఇద్దరూ మధ్యయుగాల పండితులే, కానీ భిన్న శాఖలకు చెందినవారు
4. M, N లు ఇద్దరూ మానవతావాదులే, కానీ భిన్న శాఖలకు చెందినవారు



**M said, “This world and worldly pleasures are not important. We have to think about the life after death only.”**


**N said, “Everything that affects us now in this world is important. Worldly pleasures are not something to be avoided”**

**Based on their statements we can assume about M and N that:**

- 1. M was a scholar of middle ages and N was a humanist**
- 2. M was a humanist and N was a scholar of middle ages**
- 3. Both are scholars of middle ages but belong to different branches**
- 4. Both are humanists but belong to different branches**


ఇంగ్లాండు లోని తొలి కార్మిక ఉద్యమాల  
సందర్భంలో, చిత్రంలో చూపబడిన నిరసన  
పద్ధతి క్రింది వానిలో దేనికి చెందినది?

- 1) సామ్యవాదం
- 2) పెట్టుబడిదారీ విధానం
- 3) లుద్దిజం
- 4) అనార్కిజం



**In the context of early workers movements in England, the way of protest shown in the figure related to:**

- 1) Socialism**
- 2) Capitalism**
- 3) Luddism**
- 4) Anarchism**



క్రింది స్టేట్ మెంట్ లు A మరియు B లను పరిశీలించండి. దిగువ ఇవ్వబడిన ఐచ్ఛికాలలో సరైనదానిని గుర్తించండి.

1991 తరువాత భారతదేశంలో

A: “వ్యవసాయ ఉత్పత్తులలో విదేశీ వ్యాపారం మొదలయింది”

B: “రైతుల ఆదాయం ఎక్కువ ఒడిదొడుకులకు లోనవసాగింది”

1. A, B లు రెండూ సత్యము. A కి ఒక కారణము B
2. A, B లు రెండూ సత్యము. B కి ఒక కారణము A
3. A సత్యము, B అసత్యము. A ,B ల నడుమ ఏ సంబంధమూ లేదు.
4. A అసత్యము, B సత్యము. A ,B ల నడుమ ఏ సంబంధమూ లేదు.

**Consider the following statements A and B and choose the correct one among the options given below.**

**In India, after 1991,**

**A: “Foreign trade in farm products began”**

**B: “Farmers income started to fluctuate a lot”**

- 1) Both ‘A’ and ‘B’ are true. B is a reason for A.**
- 2) Both ‘A’ and ‘B’ are true. A is a reason for B.**
- 3) Both ‘A’ and ‘B’ are False. B is a reason for A.**
- 4) Both ‘A’ and ‘B’ are False. A is a reason for B.**


## పట్టికలో ఇవ్వబడిన విభజన దేని ఆధారంగా జరిగింది?

విభాగం - 1	విభాగం - 2
హెకేటియస్	బంకించంద్ర చటర్జీ
అల్ ఇద్రిసి	బాలగంగాధర తిలక్
టాలెమి	జవహర్ లాల్ నెహ్రూ

1. రాజులు – భౌగోళిక శాస్త్రజ్ఞులు
2. భౌగోళిక శాస్త్రజ్ఞులు – స్వాతంత్ర్య సమర యోధులు
3. నావికులు - భౌగోళిక శాస్త్రజ్ఞులు
4. రాజులు – రాజకీయ నాయకులు

ఖాళీ పెట్టెను నింపడానికి సరైన జవాబును ఎన్నుకోండి.

## భారత రాజ్యాంగ నిర్మాణంలోని దశలు



1. రచనా సంఘం ఏర్పాటు
2. వివిధ రాజ్యాంగాల పరిశీలన
3. రాజ్యాంగం ఆమోదం
4. రాజ్యాంగ సభ ఛైర్మన్ ఎన్నిక

పశ్చిమ బెంగాల్ :: వరి : కర్ణాటక :: ?

1. తేయాకు
2. పొగాకు
3. కాఫీ
4. రబ్బరు



# AS II

విషయాన్ని చదివి,  
అర్థం చేసుకుని  
వ్యాఖ్యానించడం

**సూచన:** దిగువ స్టేట్ మెంట్ ను చదవండి.

దానికి నాలుగు స్పందనలు

ఇవ్వబడ్డాయి. సరైన స్పందనను మీ

సొంత ఆలోచనలు, అభిప్రాయాల

ప్రకారం గుర్తించండి. ఒకటి కంటే

ఎక్కువ స్పందనలు సరైనవని అనిపిస్తే,

దేనిని ఎక్కువ సరైనదని మీరు భావిస్తారో

దానిని గుర్తించండి.

**Q. “ప్రపంచమంతటా మహిళలు తీవ్ర  
పురుషాభిపత్యానికి లోనవుతున్నారు”**

1. అవును. ఇది నిజమే. నేటికీ మహిళలు ప్రపంచమంతటా ప్రతి రంగం లోనూ పురుషాభిపత్యానికి సంపూర్తిగా లోనవుతున్నారు.
2. లేదు. ఇది నిజం కాదు. ఇప్పటికీ పురుషాభిపత్యం ఉండడం నిజమే గానీ మధ్యయుగాలలోనూ, ఆధునిక యుగారంభం లోనూ ఉన్నంత కాదు. అది క్రమంగా తగ్గుతున్నది.
3. లేదు. ఇది ఏ మాత్రమూ నిజం కాదు. ఈ రోజుల్లో స్త్రీ పురుషులిద్దరిలో ఎవరి ఆభిపత్యమూ లేదు.
4. అవును, ఆభిపత్యం ఉంది. కానీ అది పురుషులపై స్త్రీల ఆభిపత్యం.

“రాజుకి ఉండే సర్వాధికారాలు దేవుడే ఇచ్చాడని, ఆ దైవదత్త హక్కుతోనే రాజులు పరిపాలిస్తున్నారని, కాబట్టి వాళ్ళని పార్లమెంటు ప్రశ్నించకూడదని ఇంగ్లాండు రాజు జేమ్స్ I నమ్మాడు.”

- 1) జేమ్స్ I నమ్మకం సరైనది. కేవలం దేవుని దయతోనే ఎవరైనా పాలకులు కాగలరు.
- 2) పాలకులను నిర్ణయించేది దేవుడు కాదు, ప్రజలే. కాబట్టి ఏ పాలకుడైనా పార్లమెంటును అంగీకరించాల్సిందే.
- 3) పార్లమెంటైనా, ఏ ఇతర సంస్థ అయినా పాలకుల ఆజ్ఞలను పాటించవలసిందే. రాజును ప్రశ్నించకూడదు.
- 4) అసలు పార్లమెంట్ అన్నది అవసరం లేదు. పాలకులు నిర్ణయాలు తీసుకోవడంలో ప్రజాభిప్రాయాన్ని పట్టించుకోవలసిన పని లేదు.

భారతదేశంలోని ఏకైక బంగారు గని అయిన

కోలార్ బంగారు గనిలో బంగారం అయిపోవటం వల్ల దానిని మూసివేశారు. భూమిమీద బొగ్గు, ముడిచమురు నిల్వలు కూడా పరిమిత మోతాదులలోనే ఉన్నాయి. విచక్షణా రహిత గనుల త్రవ్వకంపై నీ ప్రతిస్పందన :

1. విచక్షణారహిత గనుల త్రవ్వకం ఎక్కడా జరగడం లేదు. కనుక ఆందోళన అవసరం లేదు.
2. గనులను ఇష్టానుసారం త్రవ్వకోవచ్చు. ఖనిజాలను మరల పునరుద్ధరించుకోవచ్చు.
3. పునరుద్ధరించడానికి వీలులేని ఇంధనాలను పరిమితంగా వాడుకోవాలి. వాటిని భవిష్యత్ తరాలకు అందించాలి.
4. అభివృద్ధికి ఈ ఖనిజాల వాడకం తప్పని సరి. కావున మిగిలిన అంశాలను పరిగణించకూడదు.

***Instruction:*** Read the statement carefully. It is given 4 responses. Identify the correct response according to your own thoughts and opinions. *If you see more than one correct responses, then choose the more appropriate one as per your opinion.*

**Q. “Women, the world over are being severely dominated by men”**

- 1. Yes. This is true. Women are still being completely dominated by men in every field all over the world.**
- 2. No. This is not true. Male domination is still there, but not as much as it was during medieval and early modern times. It has been decreasing gradually.**
- 3. No. This is not true. There is not at all any domination by any gender now a day.**
- 4. Yes, domination is there. But men are being dominated by women.**

**Q. “James I, the king of England believed that the absolute powers of the king were given by God and kings ruled by that divine right. So he should not be controlled by the Parliament”**

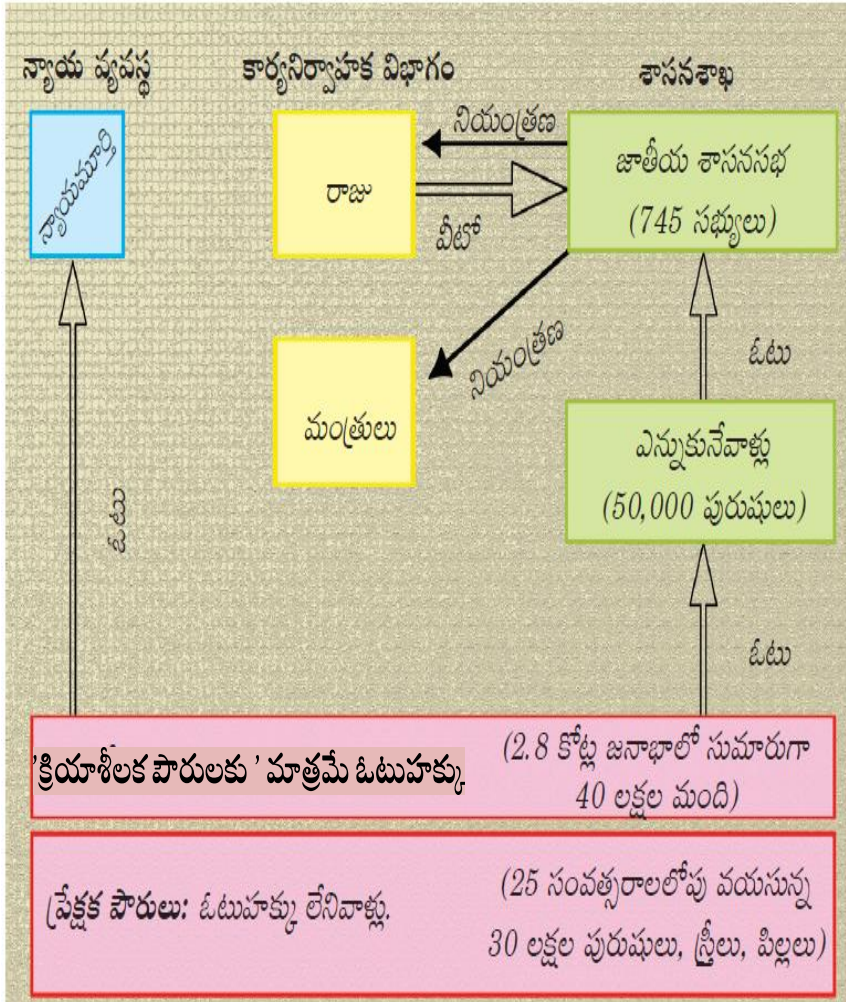
- 1. James I was right. Only by the Gods grace one could become a ruler.**
- 2. Not the God, but the People decide the rulers. So any ruler must obey the power of the Parliament.**
- 3. Parliament or any organisation, must obey the orders of the ruler. It should not question him.**
- 4. Parliament is not at tall necessary. A ruler need not consider the peoples’ opinion in decision making.**



# AS III

## సమాచార నైపుణ్యాలు

# క్రింది సమాచారాన్ని పరిశీలించి దిగువ ప్రశ్నలకు జవాబులివ్వండి.



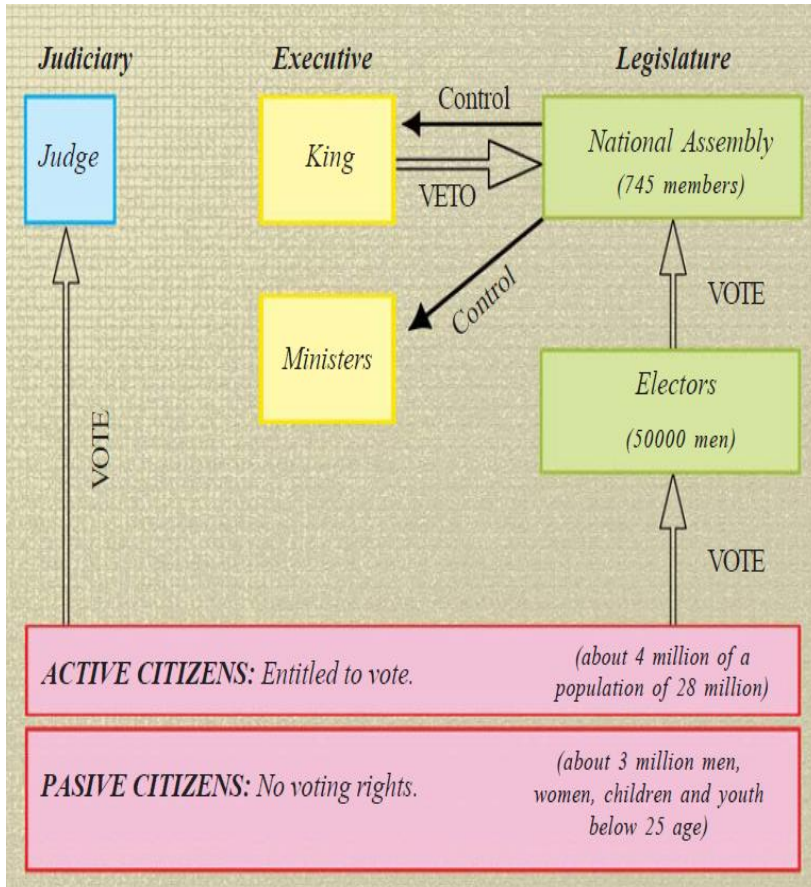
1. పైన చూపబడిన పాలనా వ్యవస్థ ఏ దేశపు జాతీయ శాసనసభతో తయారు చేయబడింది?

- 1) ఫ్రాన్సు
- 2) ఇంగ్లాండు
- 3) జర్మనీ
- 4) రష్యా

2. ఈ వ్యవస్థ యొక్క ఒక అప్రజాస్వామిక అంశము:

- 1) చట్టాలు చేసే అధికారాన్ని జాతీయ శాసనసభకు ఇవ్వడం
- 2) అధికారాలను శాసనసభ, కార్యనిర్వాహక, న్యాయ విభాగాల మధ్య విభజించడం
- 3) 'క్రియాశీలక పౌరులకు' మాత్రమే ఓటుహక్కును ఇవ్వడం
- 4) రాజ్యాంగాన్ని తయారు చేసి రాజు అధికారాలను పరిమితం చేయడం

**Study the following information and answer the questions given below.**



**1. The political system shown above was prepared by the National Assembly of:**

- 1) France
- 2) England
- 3) Germany
- 4) Russia

**2. One undemocratic aspect of this system was:**

- 1) To vest the power to make laws in National Assembly
- 2) To separate the powers and assigning them to different institutions-the legislature, executive and judiciary.
- 3) To give Right to vote to only 'active citizens'
- 4) To make a constitution and limiting the powers of the monarch.

ఇవ్వబడిన సమాచారాన్ని పరిశీలించి, ప్రశ్నలకు జవాబులు గుర్తించండి.

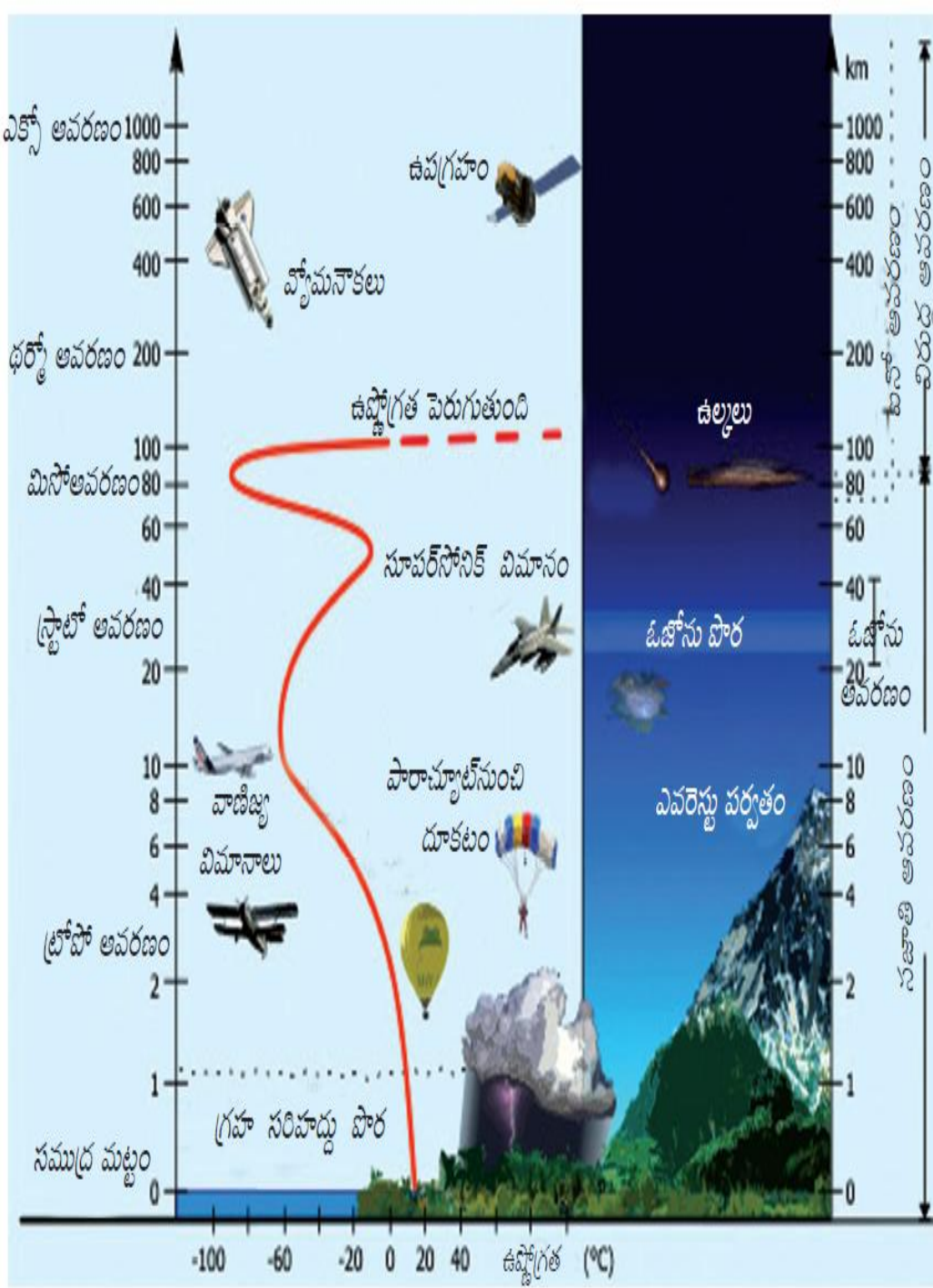
వాతావరణం యొక్క ఏ పొరలో సూర్యుని అతిసీల లోహిత కిరణాలు శోషించబడతాయి?

- 1) ట్రోపో ఆవరణము
- 2) స్ట్రాటో ఆవరణము
- 3) మిసో ఆవరణము
- 4) థర్మో ఆవరణము

ప్రధాన ఆవరణాలను దృష్టిలో ఉంచుకొని భిన్నమైన దానిని గుర్తించండి.

మిసో ఆవరణము, థర్మో ఆవరణము, స్ట్రాటో ఆవరణము, ట్రోపో ఆవరణము:

- 1) మిసో ఆవరణము
- 2) థర్మో ఆవరణము
- 3) స్ట్రాటో ఆవరణము
- 4) ట్రోపో ఆవరణము



**Study the following information and answer the questions given below.**

**AS III**

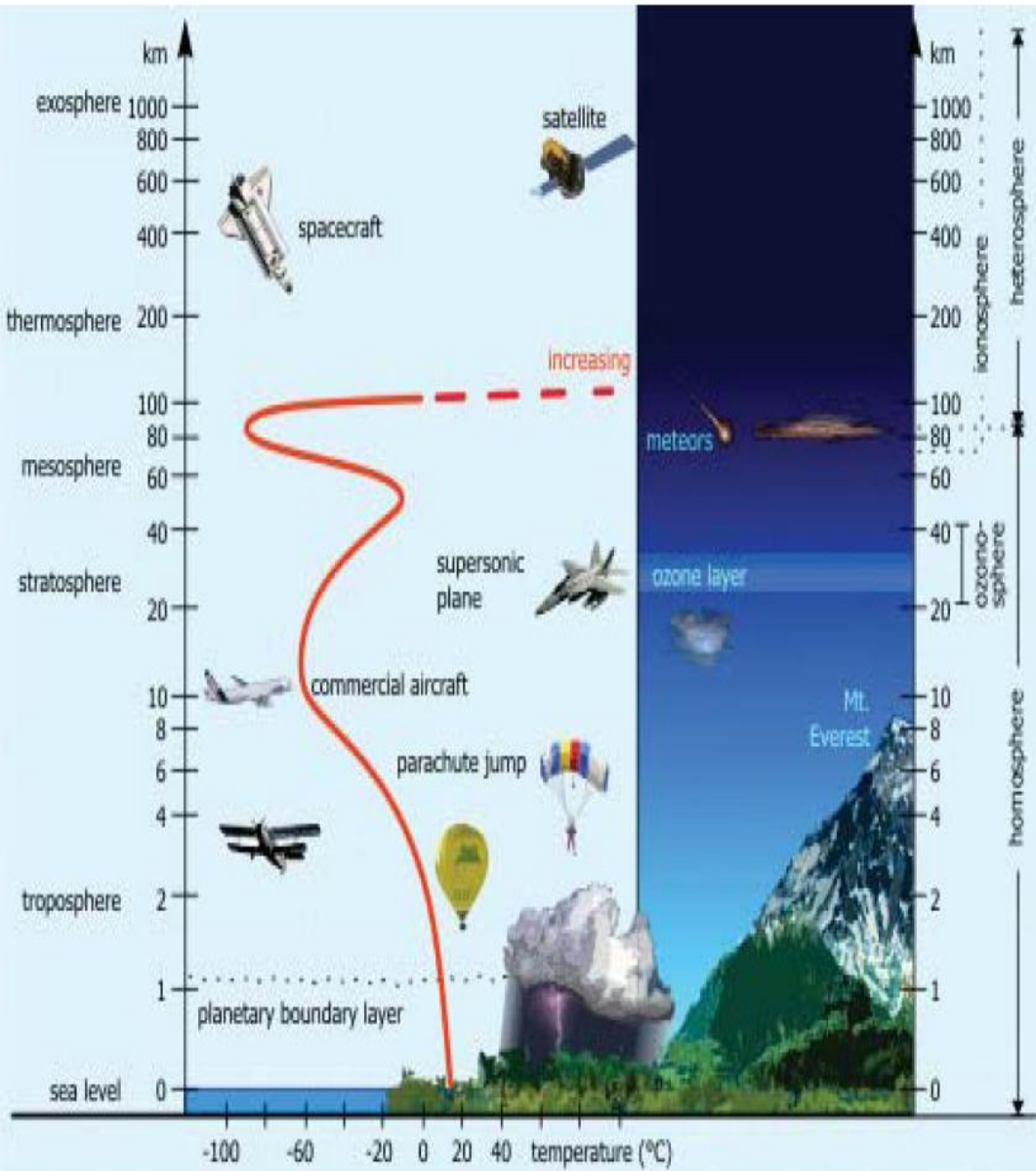
**In which layer of the atmosphere are the ultra violet rays of the Sun absorbed?**

- 1) Troposphere
- 2) Stratosphere
- 3) Mesosphere
- 4) Thermosphere

**In the context of broad layers of atmosphere, find the odd man out.**

**Mesosphere, Thermosphere, Stratosphere, Troposphere:**

- 1) Mesosphere
- 2) Thermosphere
- 3) Stratosphere
- 4) Troposphere



# AS IV

సమకాలీన / సామాజిక

అంశాలపై ప్రతిస్పందన

**భూగోళం మీద గల మంచి నీటిలో అధిక భాగం మంచు రూపంలో ఉంది.**

**మిగిలిన మంచినీటిలో అధిక భాగం:**

- 1) సరస్సులలోను, నదులలోను ఉంది.**
- 2) వాతావరణంలో తేమ రూపంలో ఉంది.**
- 3) భూగర్భ జల రూపంలో ఉంది.**
- 4) మృత్తికలలో తేమ రూపంలో ఉంది.**

**The greatest portion of the fresh water is in the form of ice and permanent snow cover. Out of the remaining fresh water, the largest proportion:**

- 1) Is in the lakes and rivers**
- 2) Exists as the moisture in atmosphere**
- 3) Exists as ground water**
- 4) Exists as moisture in soil.**



క్రింది వానిలో సరైన వాక్యాన్ని గుర్తించండి.

A. ప్రంచంలో పప్పు దినుసులను అత్యధికంగా ఉత్పత్తి చేస్తున్నది భారతదేశం.

B. ప్రంచంలో పప్పు దినుసులను అత్యధికంగా వినియోగిస్తున్నది భారతదేశం.

1) A సత్యము మరియు B అసత్యము.

2) A అసత్యము మరియు B సత్యము

3) A మరియు B లు రెండు సత్యములు.

4) A మరియు B లు రెండు అసత్యములు.

**Which among the following statements is/are true?**

**A. India is the largest producer of pulses in the world.**

**B. India is the largest consumer of pulses in the world.**

**1) A is True and B is False.**

**2) A is False and B is True.**

**3) Both A and B are True.**

**4) Both A and B are False.**

**పారిశ్రామికీకరణ ఆలస్యంగా**

**ప్రారంభమైనప్పటికీ ఉక్కు ఉత్పత్తిలో  
బ్రిటన్ ను అధిగమించిన దేశం ఏది?**

- 1) స్పెయిన్**
- 2) ఫ్రాన్స్**
- 3) జర్మనీ**
- 4) బెల్జియం**

**Which among the following countries surpassed Britain in the production of steel, even if it was industrialized lately?**

- 1) Spain**
- 2) France**
- 3) Germany**
- 4) Belgium**

**ప్రపంచంలో అత్యధిక  
జనాభా గల దేశం :**

- 1) భారతదేశం**
- 2) చైనా**
- 3) రష్యా**
- 4) U.S.A.**

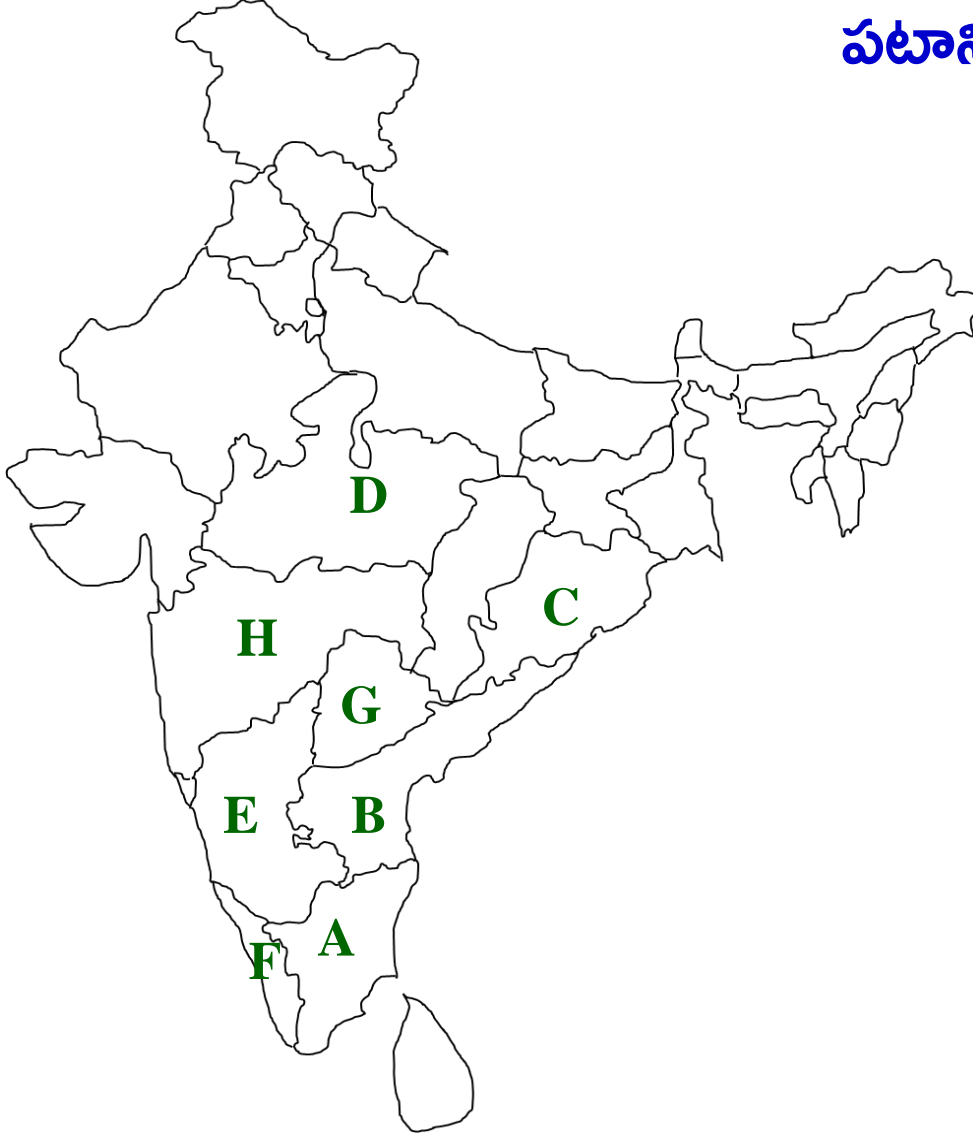
**The most populous  
country of the world is:**

- 1) India**
- 2) China**
- 3) Russia**
- 4) U.S.A.**

AS V

పట నైపుణ్యాలు

## పట నైపుణ్యాలు



పటాన్ని పరిశీలించండి. దాని ఆధారంగా క్రింది ప్రశ్నలకు జవాబులివ్వండి.

1. A తో సూచించబడిన రాష్ట్రము:

- 1) తమిళనాడు    2) కర్ణాటక  
3) ఆంధ్రప్రదేశ్    4) కర్ణాటక

2. అత్యధికంగా జొన్న పండించే రాష్ట్రము ఏ అక్షరంతో సూచించబడింది?

- 1) H    2) E    3) F    4) G

3. మధ్యప్రదేశ్ రాష్ట్రము ఏ అక్షరంతో సూచించబడింది?

- 1) C    2) D    3) E    4) F





**పటంలో గుర్తించబడిన ప్రదేశముతో సంబంధం గల సంఘటన :**

- 1) దండి యాత్ర
- 2) వందేమాతరం ఉద్యమం
- 3) చీరాల-పేరాల ఉద్యమం
- 4) క్వీట్ ఇండియా ఉద్యమం

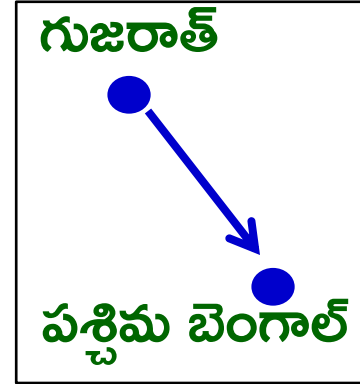
# పట నైపుణ్యాలు

AS V

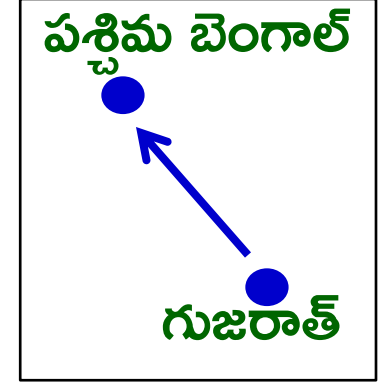
గుజరాత్ నుండి పశ్చిమ బెంగాల్ కు ప్రయాణించడానికి ఏ దిక్కులో ప్రయాణించవలసి ఉంటుంది.



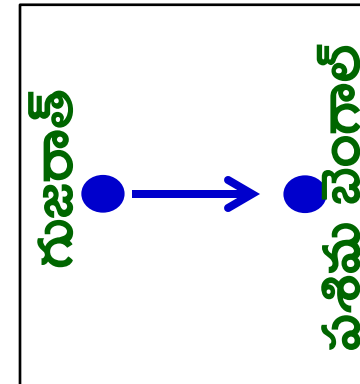
1)



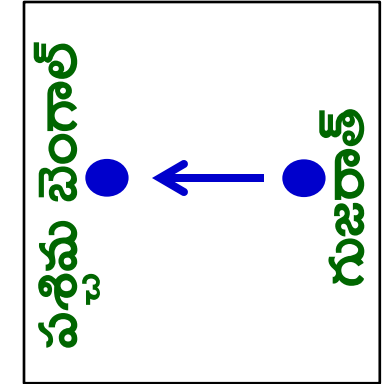
2)



3)



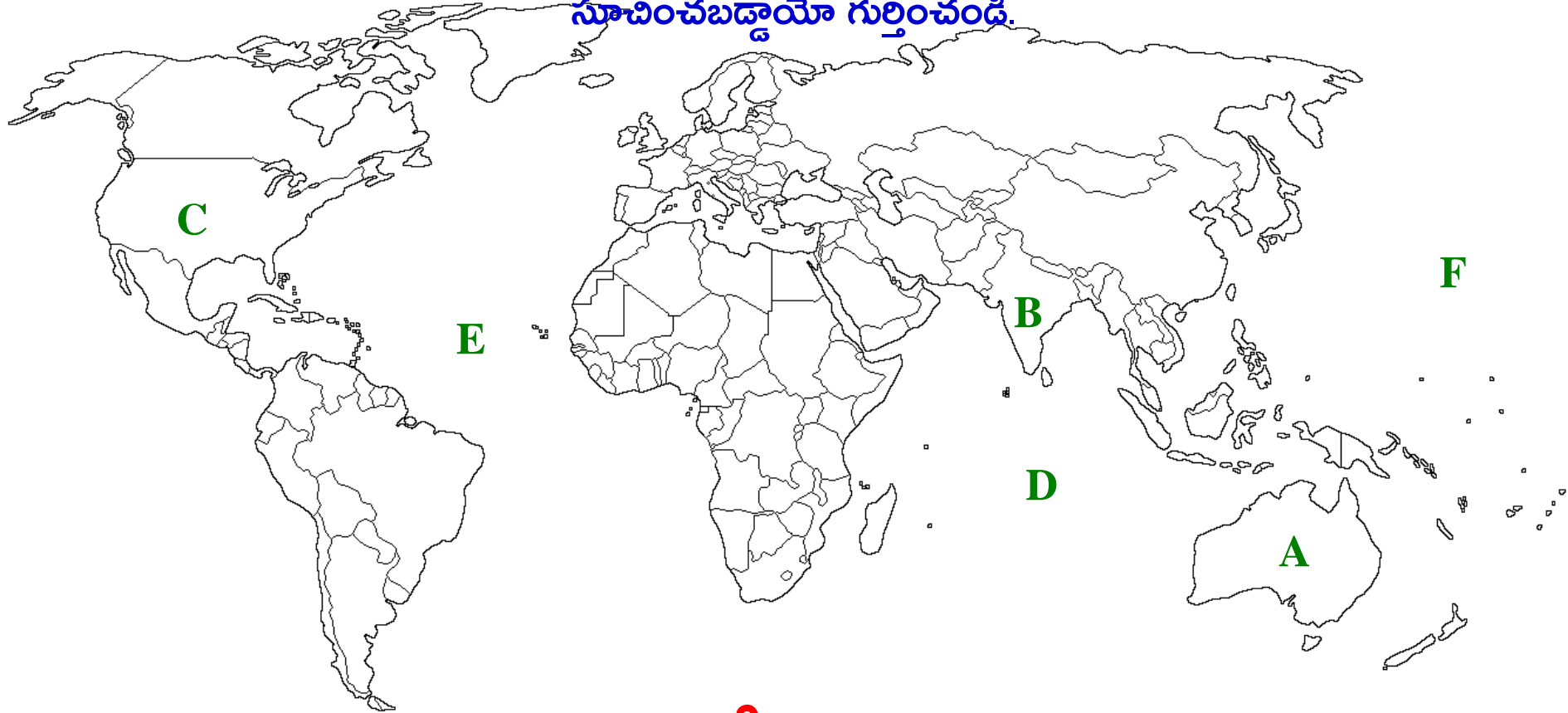
4)



# పట నైపుణ్యాలు

AS V

సూచన: క్రింది ప్రపంచపటం లో A నుండి F వరకు గల అక్షరాలతో వివిధ దేశాలు మరియు మహాసముద్రాలు సూచించబడ్డాయి. క్రింది ప్రశ్నలకు జవాబులుగా ఏ ప్రాంతాలు ఏ అక్షరాలతో సూచించబడ్డాయో గుర్తించండి.



**అమెరికాను సూచించే అక్షరం ఏది?**

**1. A**

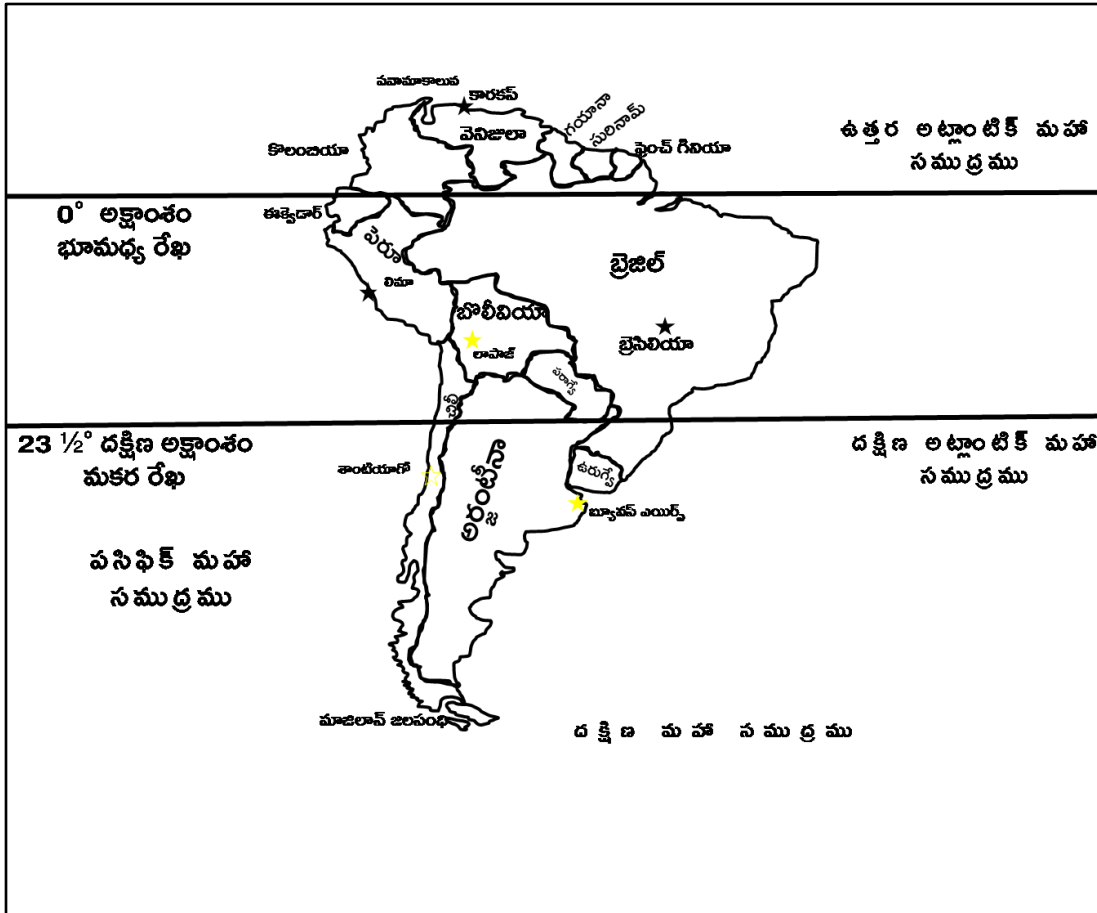
**2. E**

**3. C**

**4. B**

# పట నైపుణ్యాలు

ఇవ్వబడిన మ్యాపును పరిశీలించి క్రింది ప్రశ్నలకు జవాబులు గుర్తించండి.



ఏ దేశం గుండా మకరరేఖ పోతుంది.

1. బ్రెజిల్
2. కెనడా
3. చిలీ
4. ఈక్వెడార్

దక్షిణ అమెరికా ఖండానికి తూర్పు సరిహద్దుగా గల మహా సముద్రము ఏది?

1. అట్లాంటిక్
2. పసిఫిక్
3. హిందూ
4. ఆర్కిటిక్

పసిఫిక్ మహా సముద్రముతో సరిహద్దు గల దేశం:

1. కొలంబియా
2. బ్రెజిల్
3. ఫ్రెంచ్ గినియా
4. ఫిలిప్పైన్స్

దక్షిణ అమెరికాలోని పెద్ద దేశం

1. అర్జెంటీనా
2. బ్రెజిల్
3. ఉరుగ్వే
4. పెరూ

# AS VI

ప్రశంస –

సున్నితత్వం

**On the Planet Earth, the entire weather phenomenon takes place in**

- 1) Troposphere**
- 2) Stratosphere**
- 3) Mesosphere**
- 4) Thermosphere**

**భూగ్రహం మీద, వాతావరణ  
మార్పులన్నీ ఈ పొరలోనే  
సంభవిస్తాయి:**

- 1) ట్రోపో ఆవరణము**
- 2) స్ట్రాటో ఆవరణము**
- 3) మిసో ఆవరణము**
- 4) థర్మో ఆవరణము**

**Which of the following statements was not true regarding the aftermath of the invention of printing press?**

- 1) Students did not have to depend solely on lecture-notes**
- 2) Ideas, opinions and information moved more widely and more rapidly**
- 3) The kings and priests felt happy and welcomed it**
- 4) The reading habit was developed among the people**



అచ్చయంత్రాన్ని కనుగొన్న తరువాతి పరిణామాలకు సంబంధించి క్రిందివానిలో అసత్యమైన వాక్యము :

- 1) విద్యార్థులు కేవలం ఉపన్యాస వివరణలపై ఆధారపడవలసిన అవసరం లేకుండా పోయింది
- 2) భావాలు, అభిప్రాయాలు, సమాచారం విస్తారంగా, వేగంగా వ్యాపించాయి.
- 3) రాజులు, మతగురువులు సంతోషించారు, దాన్ని స్వాగతించారు
- 4) ప్రజలలో చదివే అలవాటు అభివృద్ధి చెందింది.

**When almost all of the Europe was ranged against France in a war, France could stand and fight. Which of the following was there behind such military strength of France?**

- 1) The idea of the people being the sovereign**
- 2) The inspiration given by the Emperor Napoleon**
- 3) The reappearance of monarchy**
- 4) World's biggest army and most modern weapons**

ప్రాన్సుకి వ్యతిరేకంగా దాదాపుగా యూరప్ మొత్తం  
యుద్ధంలో నిలబడినపుడు, ప్రాన్సు ఎదురు నిలిచి  
పోరాడగలిగింది. ఫ్రెంచి సైన్యానికి ఇంతటి బలం  
సమకూర్చిన అంశము:

- 1) ప్రజలలో గల 'తామే సార్వభౌములం' అన్న భావన
- 2) నెపోలియన్ చక్రవర్తి ఇచ్చిన ప్రేరణ
- 3) రాజరికం తిరిగి రావడం
- 4) ప్రపంచపు అతిపెద్ద సైన్యము మరియు అత్యంత  
ఆధునిక ఆయుధాలు

**The water body that contains the world's highest salinity is:**

- 1) Dead sea**
- 2) Lake Van**
- 3) Baltic sea**
- 4) Hudson Bay**

**ప్రపంచంలో అత్యధిక లవణీయత**

**గల జలభాగము :**

- 1) మృత సముద్రము**
- 2) వాన్ సరస్సు**
- 3) బాల్టిక్ సముద్రము**
- 4) హడ్సన్ అఖాతము**

Thank you